

ÜLKEMİZDE NÜFUS ÜNİTE DEĞERLENDİRME TESTİ - 1

- 1- İl. Mahmut nüfus sayımını neden yapmış olabilir
- Ülkedeki nüfusu öğrenmek için
- Vergi verecekleri tespit etmek için
- Askere gidecekleri tespit etmek için
- Okula gidecek nüfusu tespit etmek için.

Yukarıda öğretmenin sorduğu soruya kaç öğrenci doğru cevap vermiştir?

- A) 1 B) 2 C) 3 D) 4

2- Öğretmenin sorduğu "Türkiye'de ilk nüfus sayımı ne zaman yapılmıştır?" sorusuna hangi öğrenci doğru cevap vermiştir?

- A) 1923
- B) 1925
- C) 1927
- D) 1929

- 3- Yoluma devam edebilmem için doğru vagonu almam gerekiyor. Doğru vagonu bulmam için aşağıdaki soruyu cevaplar mısınız?

Ülkemizde nüfus sayımı hangi kuruluş tarafından yapılmaktadır?

- A) Türkiye İstatistik Kurumu
- B) Devlet Planlama Teşkilatı
- C) Vergi Dairesi Başkanlığı
- D) Sosyal Sigortalar Kurumu



4- "Nüfus sayımı sonucunda hangi alanda veriler elde edilebilir" sorusuna göre doğru olan vagonlar trene bağlanacaktır. Fakat bir tanesinde yanlışlık var. Onu bulur musun?

- Vagonlarımdan birisi yanlış yüklenmiş. Hangisi olduğunu bulur musun?
- A) Eğitim B) Siyasi C) Mali D) Sosyal

5-



Tahtaya yukarıdaki bilgileri yazan Seda Öğretmen öğrencilerden cevabı istemiştir. Hangi öğrenci doğru cevap vermiştir?

- A- Ali: 50
- B- Ayşe: 48
- C- Ebru: 46
- D- Veli: 44

6-

Sevgili arkadaşlar Rize'nin nüfusunun Konya'dan az olmasına rağmen Rize'nin nüfus yoğunluğu daha çok. Bunun nedeni ne olabilir?

Ebru Öğretmen'in sorduğu soruya aşağıdaki öğrencilerden hangisi doğru cevap vermiştir?

- A) Yer şekillerinin engebeli olması
- B) Konya'da tarımla uğraşan nüfusun çok olması
- C) Konya'nın yüzölçümünün fazla olması
- D) Rize'nin yüzölçümünün fazla olması

7-

İllerin çok nüfuslu olmasında bazı etkenler önemli bir paya sahiptir. Buna örnekler verir misiniz?



Aşağıdaki öğrencilerden hangisi **yanlış** bir örnek vermiştir?

- A- Ali: Antalya - Turizm
- B- Ayşe: Van - Tarım
- C- Ebru: İzmit - Sanayi
- D- Veli: Adana - Tarım

8-

Bir yerin nüfusunun yoğun olması o yeri nasıl etkiler?



Yukarıdaki soruyu soran öğretmen sınıftan cevapları aşağıda listelemiştir. Listedekilerden hangisi **yanlış** cevaptır?

- A) İş gücü ucuzlar.
- B) Tüketim artar.
- C) Ulaşım kolaylaşır.
- D) Konut sıkıntısı yaşanır.

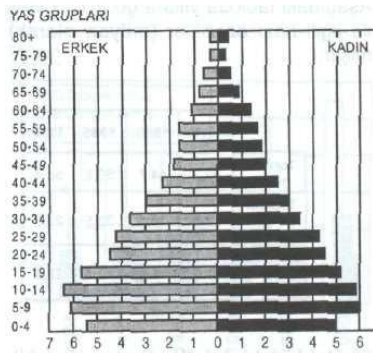
9-



Yukarıdaki grafiğe göre aşağıdaki bilgilerden hangisine **ulaşamaz**?

- A) 1927'deki ülke nüfusuna
- B) Yıllara göre nüfusta artış olup olmadığına
- C) Nüfusun kadın erkek dağılımına
- D) Nüfusun en fazla olduğu yıla

10-



Yukarıdaki yaş grupları pırmadine bakarak aşağıdakilerden hangisine **ulaşamaz**?

- A) 05-09 yaşlarındaki kadın-erkek nüfusuna bakıldığında erkekler çoğunluktadır.
- B) 80 yaş üzeri erkek nüfusu kadın nüfusundan azdır.
- C) 50-59 yaşındaki kadın ve erkeklerin nüfusu eşittir.
- D) 10 - 14 yaş grubunda kadın nüfus daha fazladır.

11-

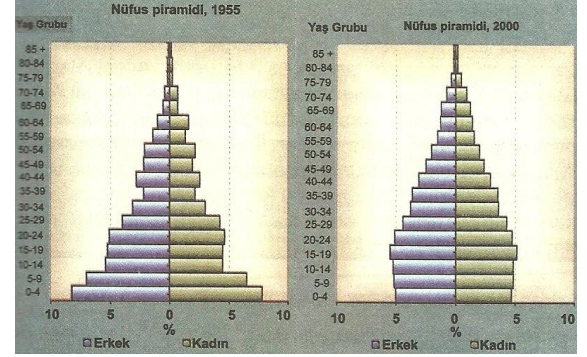
Arkadaşlar Ankara'nın nüfusu 82 yılda 154 kat arttı. Bu artıştaki **en etkili faktör** nedir?



Yukarıdaki soruya hangi öğrenci **doğru** cevap vermiştir?

- A- Leman: Başkent olması
- B- Emre: İkliminin uygun olması
- C- Erdiç: Yeryüzü şekillerinin uygun olması
- D- Meltem: Sulak alanlara yakın olması

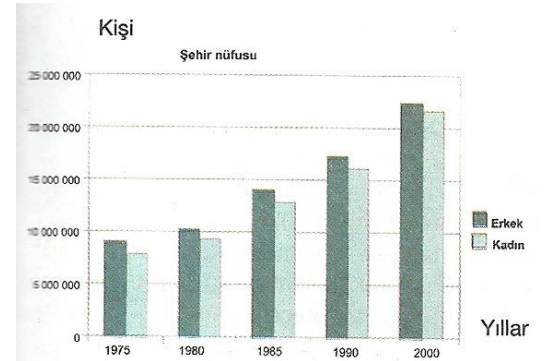
12-



Yukarıdaki grafiklere bakarak çıkarılan sonuçlardan hangisi **yanlıştır**?

- A) 1955 yılında 0-4 yaş arası nüfus 2000 yılındakine göre daha fazladır.
- B) 2000 yılında yaşlı nüfus daha fazladır.
- C) Türkiye 1955'te gelişmekte olan ülke özelliği gösterirken 2000'de gelişmiş ülke özellikleri göstermektedir.
- D) 2000 yılında 5-9 yaş arası nüfus 1955 yılındakine göre daha fazladır.

13-



Yukarıdaki şehir nüfusu grafiğe göre aşağıdakilerden hangisine **ulaşamaz**?

- A) Tüm yıllarda erkekler kadınlardan fazladır.
- B) 1990 yılında şehir nüfusu köy nüfusunu geçmiştir.
- C) Şehir nüfusu her yıl artış göstermiştir.
- D) Kadın ve erkek oranının en yakın olduğu yıl 2000'dir.

CEVAPLAR

Soru	Cevap	Soru	Cevap
1	B	8	C
2	C	9	C
3	A	10	D
4	B	11	A
5	C	12	D
6	C	13	B
7	B		

ozkanderya22@hotmail.com

Bu çalışma ozkanderya22 tarafından hazırlanarak www.sosyalbilgiler.biz sitesine yüklenmiştir.