

TAMSAYILAR (Çalışma Kâğıdı-2)

1. Aşağıdaki ifadelerde belirtilen sayıları yönlü sayılarla ifade ediniz.

♥ Deniz seviyesinden 75 metre aşağısı.

♥ Bir binanın zemin katının 4 kat altı.

♥ Bir şirketin 5000 TL zararı.

♥ Deniz seviyesinin 7000 metre üstünde uçan bir uçağın bulunduğu yükseklik.

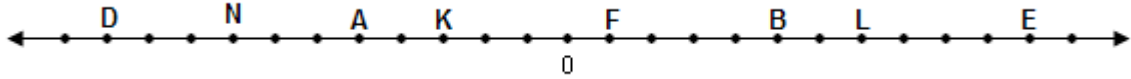
♥ Adana'da hava sıcaklığı sıfırın üstünde 37 °C.

♥ Fatih Bey'in markete olan 50 TL borcu

♥ Gümüşhane'de hava sıcaklığı sıfırın altında 5 °C.

♥ Sıcaklık, sıfırın altında 9 derece

2. Aşağıda sayı doğrusundaki noktalara karşılık gelen tam sayıları bulup yazınız, büyükten küçüğe doğru sıralayınız.

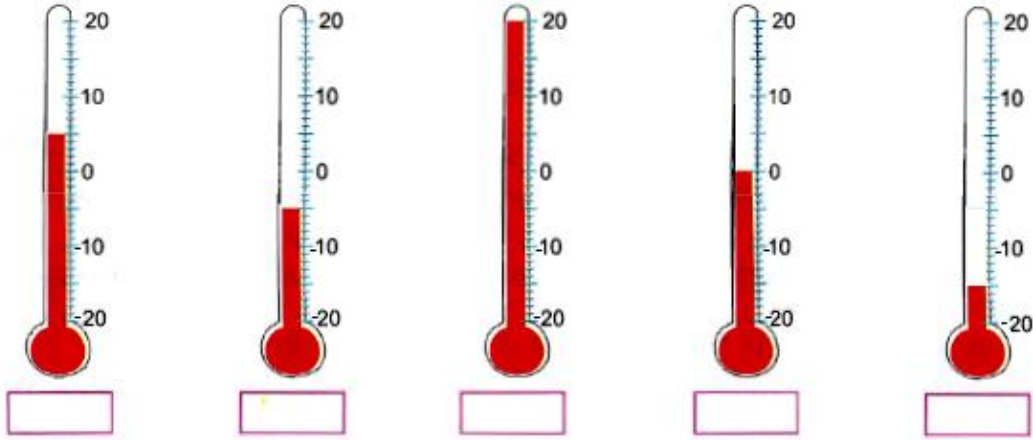


3. Mutlak değerleri eşit olan tam sayıları eşleştiriniz.

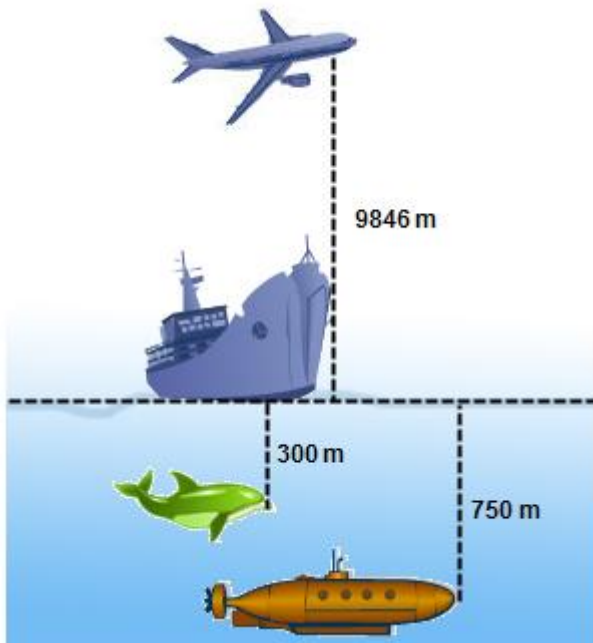
| -3 | | +6 | | 128 | | -143 | | 786 |

| 143 | | +3 | | -6 | | 786 | | 128 |

4. Termometrelerin gösterdiği sıcaklık değerlerini altlarına yazınız.



5.



Aşağıdaki boşlukları doldurunuz.

✎ Uçak ile vapur arasındaki uzaklık

✎ Yunus balığı ile denizaltı arasındaki uzaklık.....

✎ Denizaltı ile uçak arasındaki uzaklık

✎ Uçak ile yunus balığı arasındaki uzaklık

6. Aşağıdaki tam sayıları küçükten büyüğe doğru sıralayınız.

⊖ +1, 0, -5, +3, -3

⊖ -6, +4, -4, -2, +2

⊖ +4, -4, -2, +2

⊖ |-7|, -6, |+3|, -1

7. Aşağıdaki işlemlerde boşluklara <, >, = sembollerinden uygun olanlarını yazınız.

🔥 -312 -14

🔥 -54 -214

🔥 -12 |-15|

🔥 -47 0

🔥 |-712| |679|

🔥 -45 -25

🔥 |-67| |67|

🔥 0 -49

🔥 |-18|.... |15|

🔥 12 -49

🔥 |-2| 1

🔥 |-45| -8

8.

İller	Sıcaklık
İzmir	+20
Van	+8
Trabzon	+11
Ağrı	-4
Kars	-9

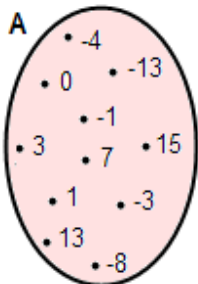
Yandaki tabloda bazı illerimizin bir günlük ortalama sıcaklık değerleri verilmiştir. **Buna göre, aşağıdaki boşlukları doldurunuz.**

- En sıcak ilimiz:
- En soğuk ilimiz:
- Trabzon ile Ağrı'nın sıcaklık farkı:
- Ağrı ilinin sıcaklığı 4 °C artarsa sıcaklığı olur.
- Van ilinin sıcaklığı 10 °C azalırca sıcaklığı olur.
- Kars ilinin sıcaklığı 5 °C azalırca sıcaklığı olur.

9. Aşağıdaki cümleleri doğru - yanlış olarak değerlendiriniz.

- Sayı doğrusu üzerinde bir tam sayı solundaki tam sayıların hepsinden büyüktür.
- En küçük pozitif tam sayı sıfırdır.
- En büyük tam sayı 999 999 dur.
- 10 dan büyük 9 tane negatif tam sayı vardır.
- $-22 < -27 < -45$ dir.
- $|-222| = |222|$ dir.
- Rakamları farklı en küçük üç basamaklı sayı -102 dir.

10.



Yandaki A kümesini kullanarak aşağıdaki soruları cevaplayınız.

- -1'den küçük tam sayıları yazınız.
- -3'ten büyük tam sayıları yazınız.
- Zıt işaretli tam sayı çiftlerini yazınız.
- -8'den büyük ve 7'den küçük tam sayıları yazınız.